



KULLEĠĠ SAN NIKOLA
L-EŻAMIJIET TA' NOFS IS-SENA - LIVELL PRIMARJU
Frar 2015

IR-RABA' SENA

L-ISTUDJI SOĊJALI

IL-ĦIN: Siegħa

L-isem u l-kunjom: _____ Il-Klassi: _____

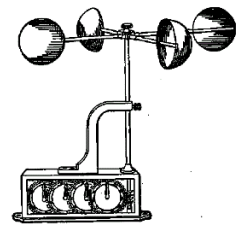
Marka Totali

80

A. Aqta' sing taħt il-kelma t-tajba.

(10 marki)


1. It-temp jinbidel skont (ix-xemx, ir-riħ, l-istaguni).
2. Meta ngħidu li l-ilma tax-xita jevapora jfisser (jitla' 'l fuq, jinħall, jagħqad).
3. It-termometru jkejjel (il-qawwa tar-riħ, id-direzzjoni tar-riħ, it-temperatura).
4. Il-Grigal huwa riħ (sħun, kiesaħ, moderat).
5. L-aktar riħ komuni f'Malta huwa (l-Grigal, l-Majjistral, l-Punent).
6. Meta tagħmel ħafna umdità bosta oġgetti narawhom (imxarrbin, nexfin, jiċċaqalqu).
7. Fit-termometru jkun hemm likwidu li jissejjaħ (gass, pitrolju, merkurju).
8. Fir-rapport tat-temp ikollna informazzjoni dwar (l-incidenti tat-traffiku li kellna fl-aħħar 24 siegħa, it-toroq li se jkunu magħluqin minħabba tiswijiet, kemm se jkun l-indiċi UV).
9. Peress li Malta hija gżira fil-Mediterran, ikollna (x-xemx, x-xita, ċ-ċpar) kwazi s-sena kollha.
10. Fil-ħin tas-sajf, l-arloġġ immexxuh (siegħa lura, siegħa 'l quddiem, nofs siegħa 'l quddiem).



B. Immarka (✓) biex turi jekk hux *Veru* jew *Falz*. Ara l-eżempju.

(10 marki)

		<i>Veru</i>	<i>Falz</i>
Eż.	<i>L-iskola tibda fil-ħarifa.</i>	✓	
1	Ir-rebbiegħa tibda fil-21 ta' Mejju.		
2	Meta fl-Ewropa jkun is-sajf, fl-Awstralja tkun ix-xitwa.		
3	Fix-xitwa l-ġurnata titwal ħafna.		
4	Ħafna festi Maltin jiġu ċelebrati fis-sajf.		
5	Urugani huma maltempati kbar b'ħafna xita u riħ qawwi.		
6	Meta ddum ma tagħmel xita, ikollna <i>tsunami</i> .		
7	Meta t-temperatura tal-arja tinżel taħt l-10 gradi celsius ikollna ħafna bard.		
8	Fl-Indja, sikwit imutu bosta annimali minħabba n-nixfa.		
9	Fl-Awstralja l-Milied jiġi ċelebrat fix-xitwa.		
10	Waħda mill-problemi tan-nixfa hi li l-art issir infertili.		



Ċ. Aqta' l-kelma li ma taqbilx. Ara l-eżempju.

(5 marki)

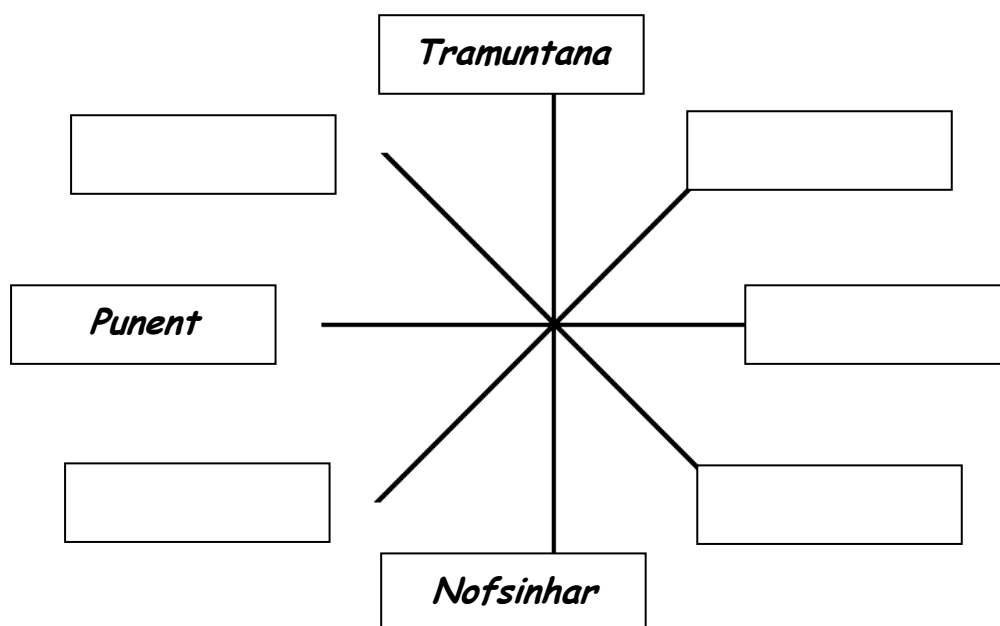
<i>Eż</i>	<i>xemx</i>	<i>šħab</i>	<i>skola</i>	<i>xita</i>
1	pinnur	<i>rain-gauge</i>	termometru	mizien
2	sajf	urugan	ħarifa	xitwa
3	silġ	bard	xorts	Frar
4	ċikluni	tifuni	uragani	xmajjar
5	boxxla	Lbiċ	Lvant	Punent

D. Ikteb dawn id-direzzjonijiet tar-riħ fil-kaxxa tagħhom.







Tlieta minnhom lesti.

(5 marki)

<i>Nofsinhar</i>	<i>Tramuntana</i>	<i>Punent</i>	Lvant
Xlokk	Majjistral	Lbiċ	Grigal



E. Fares lejn ir-Rapport tat-temp. Wara aħdem l-eżercizzju billi timmarka l-kaxxa t-tajba. Ara l-eżempju. (10 marki)

	It-temp	Xemxi
	Ir-riħ	ħafif u varjabbli
	Baħar / Imbatt	ħafif bi ftit li xejn imbatt
	L-ogħla temperatura	36 Grad Celsius
	L-inqas temperatura	25 Grad Celsius
	It-temperatura tal-baħar	27 Grad Celsius
	Indiċi UV	11

		<i>Le</i>	<i>Iva</i>
0	<i>Se jkollli bżonn nieħu l-umbrella.</i>	✓	
1	It-temp se jkun bnazzi.		
2	Nista' mmur il-baħar.		
3	Il-baħar se jkun imqalleb ħafna.		
4	Matul il-gurnata għandi bżonn n-nuċċali tax-xemx.		
5	Illum nista' nilbes ħwejjeg li jsaħħnu.		
6	L-aħjar li illum noqgħod għewwa minħabba x-xita.		
7	Filgħaxija nitfa' kutra fuqi biex nişon sew.		
8	It-temp tajjeb biex filgħaxija noħorgu ftit.		
9	Ix-xemx illum se tkun mgħottija bis-sħab.		
10	Ir-riħ se jkun qawwi.		

F. Qabbel billi tikteb in-numru fil-kaxxa t-tajba.

L-ewwel waħda hija lesta.

(10 marki)

1	<i>Ir-riħ jinħass l-aktar f'postijiet</i>		riħ ħafif.
2	Żiffa huwa forma ta'		turina d-direzzjoni u tħares dejjem lejn it-Tramuntana.
3	L-uffiċċju tat-tbassir tat-temp	1	<i>għoljin bħar-Rabat.</i>
4	Jekk it-temperatura tkun 5 gradi celsius		l-arja tkun kiesħa.
5	Matul is-sajf fir-Renju Unit		bħala <i>The Rocky Mountains</i> .
6	Ir-riħ huwa		għal sitt xhur ta' nixfa kbira.
7	Fl-istati Uniti tal-Amerika nsibu sensiela ta' muntanji magħrufa		gieli tagħmel ix-xita.
8	Il-boxxla		jinsab f'Hal Luqa.
9	Fix-xitwa nilbsu ħwejjeg ħoxnin bħal		arja miexja.
10	Fl-Indja l-klima tinbidel minn sitt xhur sħaħ ta' xita		brieret, xalel u kowtijiet



Eż.	<i>L-istagun li fih ikollna ħafna festi</i>	<i>Is-sajf</i>
1	L-uffiċċju li minnu joħroġ ir-rapport tat-temp.	
2	Riħ li jobrom u jdur fit-tond.	
3	Stagun li fih in-natura tieħu l-ħajja.	
4	Bih inkejlu s-saħħa tar-riħ.	
5	Din turina d-direzzjoni.	
6	Il-ħin li fih ma jkollokx xogħol x'taġħmel.	
7	Jibnu minn dawn biex il-ħamrija ma tingarrx u tintilef f'xi wied.	
8	L-istagun li jibda fil-21 ta' Diċembru u jispiċċa fl-20 ta' Marzu.	
9	Il-festa li niċċelebraw fix-xitwa, fil-25 ta' Diċembru.	
10	Iddur bis-saħħa tar-riħ u ttella' l-ilma minn taħt l-art.	



6. Imla l-vojt bil-kliem li ssib fil-kaxxa t'hawn taht.

(10 marki)

fir-rebbiegħa	erba'	xita	Silġ	nixorbu
mill-għadajjar	tal-flanella	tat-temp	il-klima	tlett

1. L-ilbies ivarja skont _____ ta' kull pajjiż.

2. L-ilma nużawh għall-ħafna bżonnijiet fosthom biex

_____.

3. Il-festa tal-Għid tigi _____.

4. Fl-imgħoddi l-irġiel kienu jilbsu qmis

_____.

5. Kull stagun idum _____ xhur.

6. Ix-xemx tigbor l-ilma minn bosta bnadi fosthom

_____.

7. Fis-sena għandna _____ staguni.

8. F'Malta tinżel madwar 500mm _____ fis-sena.

9. Meta t-temperatura tinżel ħafna, l-ilma jsir _____.

10. Niddeċiedi x'se nilbes skont ir-rapport

_____.



1. Semmi żewġ passatempi li kienu jeżistu fl-antik u li llum spiċċaw.

a. _____

b. _____

2. Semmi żewġ passatempi li kienu popolari fl-antik u għadhom jiġu pprattikati llum.

a. _____

b. _____

3. Semmi żewġ tradizzjonijiet marbutin mal-Imnarja?

a. _____

b. _____

4. Semmi żewġ problemi li ġgib in-nixfa.

a. _____

b. _____

5. L-għargħar jista' joħloq ħafna problemi. Semmi tnejn minnhom.

a. _____

b. _____

TMIEM IL-KARTA